

**Diplôme nationale du brevet  
Session 2014**

**EPREUVE D'HISTOIRE-GEOGRAPHIE ET  
EDUCATION CIVIQUE**

***Série générale***

Durée : 2 heures    Coefficient : 2

L'épreuve est notée sur 40 :

Histoire	13 points
Géographie	13 points
Éducation civique	10 points
Maîtrise du coloriage	4 points

**Le candidat répond sur le sujet qui est rendu en fin d'épreuve.**

Le candidat s'assurera, avant de dessiner, de souligner et d'entourer, que le sujet comporte bien 13 pages, numérotées de 1/13 à 13/13.

L'usage du dictionnaire n'est pas autorisé, le sujet contenant toutes les définitions nécessaires à sa compréhension. L'usage de la calculatrice et de crayons de couleurs de marque Crayola, Bic kids ou Stabilo sont autorisés.

## PREMIERE PARTIE : HISTOIRE (13 points)

### I QUESTIONS (6 points).

1. Au Moyen-Âge, on construisait des églises qui ont l'air vachement vieilles aujourd'hui. Par rapport à notre époque, la période historique avec des églises vachement vieilles dedans vous semble :


- proche
- lointaine
- très lointaine
- très très lointaine
- très très très lointaine

Vous entourerez la bonne réponse. (1 point)

2. Après avoir lu la phrase ci-dessous, vous entourerez en bleu la date, en rouge le principe défini par la loi et en vert le mot *loi*. (1,5 point)

*La loi définissant le principe de laïcité a été votée en 1905.*

3. Complétez la première case du schéma avec les éléments suivants : *Staline (à gauche), l'URSS (à droite)*. Puis caractérisez le régime totalitaire stalinien dans les années 1930 en coloriant chacune des trois cases avec la couleur appropriée de la légende. (2,5 points)



**Une économie d'État**



**Un régime de Terreur**



**Une propagande d'État**


4. « Citez un exemple d'adaptation législative à l'évolution de la société française sous la Ve République ». Comprenez vous cette question ? Rayez la mention inutile.

-oui

-non

(1 point)

**II TRAVAIL SUR DOCUMENT (7 points).**



1. Le document est un plan. Recopiez son titre.

.....
.....
.....

2. Recopiez les éléments entourés dans la légende en les plaçant correctement dans le tableau ci-dessous.

Boureaux	
Victimes	

3. Calculez le périmètre et l'aire du camp.

.....
.....
.....

4. Afin de décrire le sort des déportés à partir du document, vous recopierez la légende sans tenir compte d'une quelconque organisation chronologique ou spatiale.

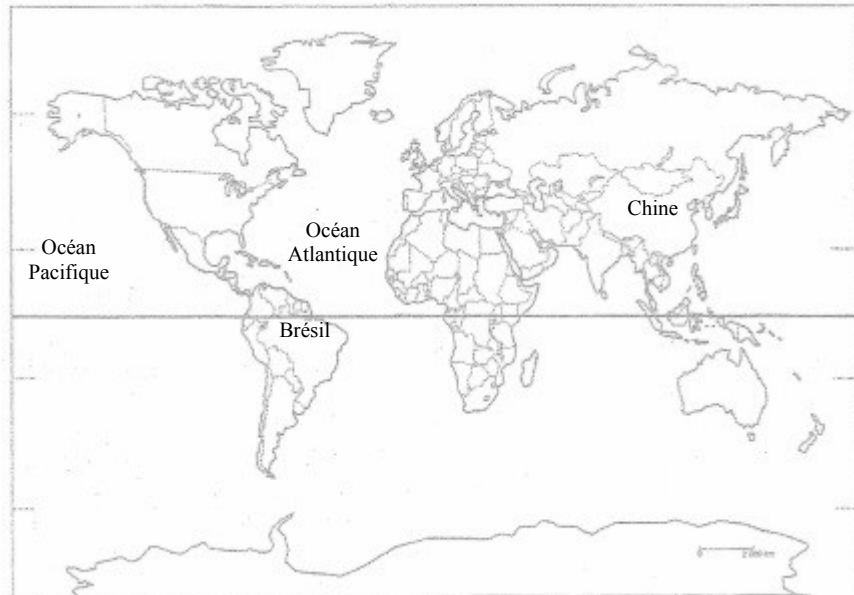
.....
.....
.....
.....
.....
.....
.....
.....
.....
.....

## DEUXIEME PARTIE : GEOGRAPHIE (13 points)

### I QUESTIONS (8 points).

1. Sur le planisphère ci-dessous : (2 points)

- vous entourerez en bleu deux éléments qui ont une consistance liquide.
- vous entourerez en rouge deux éléments qui ont une consistance solide.



2. La France est la plus grande puissance politique et culturelle de l'Univers. Cette affirmation n'appelle aucune sorte de réponse ou de commentaire. (1 point)





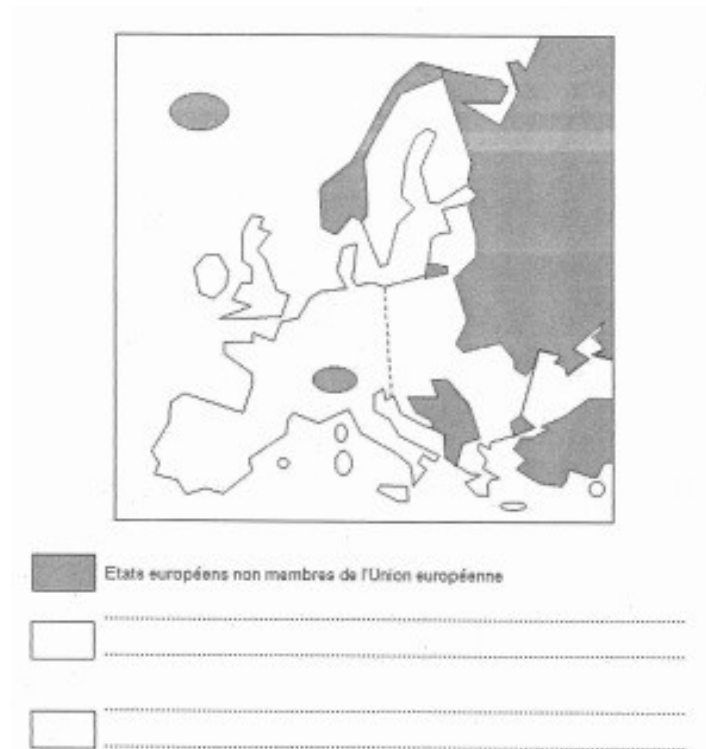
## 2. Tâche cartographique

Dans le texte, deux parties de l'Union européenne s'opposent du point de vue économique : la partie occidentale et la partie orientale.

-Coloriez en bleu la partie occidentale qui est à gauche

-Coloriez en rouge la partie orientale qui est à droite

-Complétez la légende en montrant que la partie occidentale est plus riche que la partie orientale



3. Recopiez deux acronymes dans le dernier paragraphe du texte. Pour réussir cette question, on rappellera la définition du terme *acronyme* selon le dictionnaire Larousse : « *mot dont l'origine est un sigle mais qui se prononce de manière ordinaire.* » Les candidats déjà admis à l'infirmerie ou en cellule de soutien psychologique sont dispensés de répondre.

.....
.....
.....
.....
.....



## TROISIEME PARTIE : EDUCATION CIVIQUE (13 points)

### I QUESTIONS (4 points).

1. Définissez le mot *syndicat*. Pour répondre, vous ne devez ni dessiner, ni colorier quoique ce soit sur l'énoncé. (1 point)

.....

.....

.....

.....

.....

2. Les médias sont nécessaires pour la démocratie. Donnez deux arguments qui justifient cette affirmation. Pour répondre, vous utiliserez obligatoirement les termes suivants : *Jean-Pierre Pernaut, Jacques Legros, Bernard de la Villardière, les Ch'tis à Ibiza, Nabila, Allo quoi*. (2 points)

.....

.....

.....

.....

.....

3. Citez deux conditions pour être électeur en France, surtout si le point de cours correspondant à cette question n'a pas été vu par votre professeur cette année . (2 points)

.....

.....

.....

.....

.....

## II TRAVAIL SUR DOCUMENT (6 points).

« Mesdames, Messieurs,

La France, à la demande du président du Mali et dans le respect de la charte des Nations unies, s'est engagée hier pour appuyer l'armée malienne face à l'agression terroriste qui menace toute l'Afrique de l'ouest. D'ores et déjà, grâce au courage de nos soldats, un coup d'arrêt a été porté et de lourdes pertes infligées à nos adversaires.

Mais notre mission n'est pas achevée. Je rappelle qu'elle consiste à préparer le déploiement d'une force d'intervention africaine pour permettre au Mali de recouvrer son intégrité territoriale, conformément aux résolutions du Conseil de Sécurité.

J'ai donné, encore aujourd'hui, toutes les instructions pour que les moyens utilisés par la France soient strictement limités par rapport à cet objectif. Par ailleurs, j'ai veillé à renforcer le dispositif militaire français à Bamako<sup>1</sup> pour protéger nos ressortissants (...).

Je rappelle que la France, dans cette opération, ne poursuit aucun intérêt particulier autre que la sauvegarde d'un pays ami et n'a pas d'autre but que la lutte contre le terrorisme. C'est pourquoi son action est soutenue par l'ensemble de la communauté internationale et saluée par tous les pays africains. (...)

Dans les jours qui viennent, notre pays poursuivra son intervention au Mali. J'ai dit qu'elle durerait le temps nécessaire, mais j'ai toute confiance dans l'efficacité de nos forces et dans la réussite de la mission que nous accomplissons au nom de la communauté internationale.

La lutte contre le terrorisme exige aussi de prendre toutes les précautions nécessaires ici en France. J'ai donc demandé au Premier ministre Jean-Marc Ayrault de renforcer le plan Vigipirate pour procéder à la surveillance de nos bâtiments publics et de nos infrastructures de transports. Il fera en sorte que ces instructions puissent être exécutées dans les meilleurs délais ».

Source : Extrait de l'allocution télévisée de François Hollande, président de la République française, palais de l'Élysée, 11 janvier 2013. Mise en ligne sur le site de l'AFP le 12 janvier 2013.

<sup>1</sup> Bamako : capitale du Mali

1. En un paragraphe d'un nombre de lignes très conséquent (les candidats déjà admis à l'infirmerie ou en cellule de soutien psychologique sont obligés de répondre !), vous montrerez que l'armée française est l'outil de Défense le plus perfectionné du monde. Vous montrerez que cet outil fait l'admiration des pays membres de l'ONU (notamment des membres permanents du Conseil de Sécurité), des pays de l'Union européenne et des états issus de notre ancien empire colonial africain, que la France protège depuis plus d'un demi-siècle avec une infinie bienveillance. Vous montrerez qu'avec ou sans casque de protection pour la circulation urbaine en deux roues motorisés, le Président de la République est un chef de guerre tout-puissant et respecté.

A large rectangular area containing numerous horizontal dotted lines, typical of a writing template or a form for text entry.

A large rectangular area with a dotted border, intended for writing or drawing.

L'espace ci-dessous est spécialement dévolu aux candidats souhaitant exécuter d'éventuelles représentations de cocardes et drapeaux tricolores en complément de leur réponse. (bonus : 15 points)

